

MARINHA DO BRASIL
DIRETORIA DE ENSINO DA MARINHA

***(CONCURSO PÚBLICO DE ADMISSÃO AO CURSO DE
FORMAÇÃO PARA INGRESSO NO CORPO AUXILIAR
DE PRAÇAS DA MARINHA / CP-CAP/2017)***

**ESTÁ AUTORIZADA A UTILIZAÇÃO DE CALCULADORA
PADRÃO NÃO CIENTÍFICA**

CONTABILIDADE

QUESTÃO 1

Assinale a opção que NÃO exemplifica uma dívida fundada.

- (A) Débitos de tesouraria.
- (B) Obrigações do Tesouro.
- (C) Bônus rotativos.
- (D) Apólices.
- (E) Letras do Tesouro.

QUESTÃO 2

Assinale a opção correta em relação aos créditos adicionais.

- (A) os créditos suplementares se destinam a atender despesas para as quais não haja dotação orçamentária específica.
- (B) os créditos especiais se destinam a reforçar a dotação orçamentária que se tornou insuficiente durante a execução do orçamento.
- (C) os créditos suplementares se destinam a reforçar a dotação orçamentária que se tornou insuficiente durante a execução do orçamento.
- (D) os créditos suplementares não dependem de prévia autorização legislativa e indicação dos recursos disponíveis que compensarão a abertura dos respectivos créditos.
- (E) os créditos extraordinários comportam autorização legislativa prévia e serão abertos por medida provisória do Poder Executivo.

QUESTÃO 3

Diminuem os saldos das contas Caixa, Capital Social, Empréstimos Bancários e Ações em Tesouraria, os lançamentos nelas efetuados que representem, respectivamente:

- (A) Débito, Crédito, Crédito e Débito.
- (B) Crédito, Crédito, Débito e Débito.
- (C) Crédito, Débito, Débito e Crédito.
- (D) Débito, Débito, Crédito e Crédito.
- (E) Débito, Crédito, Débito e Crédito.

QUESTÃO 4

Considerando a representação gráfica dos estados patrimoniais, assinale a opção abaixo que apresenta a existência de "Passivo a Descoberto":

- (A) Ativo = Passivo.
- (B) Patrimônio Líquido = Passivo.
- (C) Ativo = Passivo + Patrimônio Líquido.
- (D) Ativo = Patrimônio Líquido.
- (E) Ativo + Patrimônio Líquido = Passivo.

QUESTÃO 5

Analise as afirmativas abaixo.

- I- O patrimônio das entidades constitui o campo de aplicação da Contabilidade.
- II- A Contabilidade é a ciência que estuda e pratica as funções de orientação, de controle e de registro, relativas à administração econômica.
- III- A azienda é o objeto da Contabilidade.

Assinale a opção correta.

- (A) Apenas a afirmativa II está correta.
- (B) Apenas as afirmativas I e II estão corretas.
- (C) Apenas as afirmativas I e III estão corretas.
- (D) Apenas a afirmativa I está correta.
- (E) As afirmativas I, II e III estão corretas.

QUESTÃO 6

Assinale a opção que apresenta um fato modificativo diminutivo.

- (A) Recebimento de receita de aluguel.
- (B) Compra à vista de móveis e utensílios.
- (C) Pagamento de despesas de salários.
- (D) Perdão de uma dívida pelo fornecedor.
- (E) Compra a prazo de equipamento para uso dos empregados.

QUESTÃO 7

Segundo Kohama (2016), Dívida Ativa é constituída por importâncias relativas a

- (A) tributos e créditos da fazenda pública, lançados mas não cobrados ou não recebidos no prazo de vencimento, a partir da data de sua inscrição.
- (B) tributos, multas e créditos da fazenda pública, lançados mas não cobrados ou não recebidos no prazo de vencimento, a partir da data de sua inscrição.
- (C) tributos da fazenda pública, lançados, cobrados e não recebidos no prazo de vencimento, a partir da data de sua inscrição.
- (D) tributos da fazenda pública mas não cobrados, porém recebidos no prazo de vencimento, a partir da data de sua inscrição.
- (E) tributos, multas e créditos da fazenda pública, lançados, cobrados e não recebidos no prazo de vencimento, a partir da data de sua inscrição.

QUESTÃO 8

Como se denomina a fase da despesa em que ocorre o ato emanado de autoridade competente que cria para o Estado uma obrigação de pagamento pendente ou não de implemento de condição?

- (A) Liquidação.
- (B) Empenho.
- (C) Pagamento.
- (D) Fixação.
- (E) Lançamento.

QUESTÃO 9

Segundo Martins (2010), assinale a opção que apresenta a sequência correta das etapas a serem seguidas, para uma boa apropriação de custos.

- A) Separação entre custos e despesas, rateio dos Custos Indiretos e apropriação dos Custos Diretos diretamente aos produtos ou serviços.
- B) Apropriação dos Custos Diretos diretamente aos produtos ou serviços, rateio dos Custos Indiretos e separação entre custos e despesas
- C) Rateio dos Custos Indiretos, separação entre custos e despesas e apropriação dos Custos Diretos diretamente aos produtos ou serviços.
- D) Separação entre custos e despesas, apropriação dos Custos Diretos diretamente aos produtos ou serviços e rateio dos Custos Indiretos.
- E) apropriação dos Custos Diretos diretamente aos produtos ou serviços, Separação entre custos e despesas e rateio dos Custos Indiretos.

QUESTÃO 10

Segundo Kohama, qual é a sequência correta das etapas desenvolvidas pelo processo orçamentário?

- (A) Estudo e aprovação, elaboração, avaliação e execução.
- (B) Elaboração, execução, estudo e aprovação e avaliação.
- (C) Elaboração, estudo e aprovação, execução e avaliação.
- (D) Estudo e aprovação, execução, avaliação e elaboração.
- (E) Elaboração, avaliação, estudo e aprovação e execução.

QUESTÃO 11

Sabendo-se que a variância da amostra 2, 4, 6, 8, 10 é $s^2 = 10,0$, qual seria a variância dessa amostra se esses mesmos valores representassem toda uma população?

- (A) 10,0
- (B) 9,0
- (C) 8,0
- (D) 7,0
- (E) 6,0

QUESTÃO 12

Segundo Stevenson (2001), quando se definem categorias e se conta o número de observações pertencentes a cada categoria, que dados são obtidos?

- (A) Variáveis discretas.
- (B) Dados nominais.
- (C) Variáveis contínuas.
- (D) Dados por postos.
- (E) Dados estatísticos.

QUESTÃO 13

A despesa cujo empenho foi legalmente emitido no exercício anterior, mas depende, ainda, da fase da liquidação, é denominada

- (A) Restos a pagar de despesa processada paga.
- (B) Restos a pagar de despesa não processada paga.
- (C) Restos a pagar de despesa processada a pagar.
- (D) Restos a pagar de despesa processada.
- (E) Restos a pagar de despesa não processada a pagar.

QUESTÃO 14

Assinale a opção que apresenta um dos principais objetivos do SIAFI

- (A) apoiar a gestão dos serviços gerais.
- (B) unificar os recursos de caixa do Tesouro Nacional.
- (C) Localizar qualquer servidor público na máquina administrativa.
- (D) Controlar dados cadastrais, pessoais, funcionais e de processamento da folha de pagamento de servidores.
- (E) Elaborar proposta orçamentária do governo.

QUESTÃO 15

Em relação aos custos fixos, é correto afirmar que:

- (A) quanto maior a quantidade produzida, maior seu consumo.
- (B) são custos que podem ser diretamente apropriados ao produto.
- (C) a depreciação com base em quotas decrescentes atribui um valor diferente a cada período, entretanto continua sendo um custo fixo.
- (D) representam a soma de todos os custos de produção, exceto os relativos a matérias-primas e outros eventuais adquiridos e empregados sem nenhuma modificação pela empresa.
- (E) são exemplos de custos fixos salários da administração das vendas e seguro.

QUESTÃO 16

Assinale a opção que apresenta uma característica dos bens dominicais.

- (A) Estão sujeitos à contabilização no ativo.
- (B) São inalienáveis nos casos e formas que a lei estabelecer.
- (C) Não podem produzir rendas.
- (D) Não estão inventariados e avaliados.
- (E) O uso pode ser oneroso ou gratuito, conforme estabelecido em lei.

QUESTÃO 17

De acordo com a lei nº 8.666/93, com relação aos tipos de licitação, para serviços de natureza predominantemente intelectual, deve-se utilizar:

- (A) somente o tipo melhor técnica.
- (B) o tipo menor preço ou técnica e preço.
- (C) o tipo melhor técnica ou técnica e preço.
- (D) somente o tipo maior lance ou oferta.
- (E) o tipo melhor técnica ou maior lance ou oferta.

QUESTÃO 18

Como se denomina a única modalidade de licitação em que não é exigida a publicação de edital?

- (A) Convite.
- (B) Concurso.
- (C) Pregão.
- (D) Registro de Preços.
- (E) Concorrência.

QUESTÃO 19

Segundo Kohama (2016), o subsistema que registra, processa e evidencia os fatos financeiros e não financeiros relacionados à variação do patrimônio público denomina-se subsistema de

- (A) Informações Financeiras.
- (B) Informações Orçamentárias.
- (C) Informações Patrimoniais
- (D) Compensação.
- (E) Variações Patrimoniais.

QUESTÃO 20

Analise a tabela a seguir.

xi	fi
2	1
5	4
9	6
10	6

Assinale a opção que apresenta a mediana da série acima:

- (A) 6
- (B) 7
- (C) 8
- (D) 9
- (E) 11

QUESTÃO 21

Assinale a opção que apresenta exemplos de produção contínua.

- (A) Indústria química e petroquímica e de álcool.
- (B) Indústria de petróleo e empresas de construção civil.
- (C) Indústria de açúcar e escritório de consultoria.
- (D) Companhia de energia elétrica e escritório de engenharia.
- (E) Indústria de produtos alimentícios e escritório de auditoria.

QUESTÃO 22

Considerando as contas abaixo extraídas dos livros contábeis de determinada Cia., assinale a opção que apresenta os valores do lucro bruto e do custo das mercadorias vendidas, respectivamente.

	R\$
Receita Bruta	120.000
Estoque Inicial	20.000
Devoluções de Vendas	10.000
Estoque Final	8.000
Compras	10.000
Retorno de Mercadorias	5.000

- (A) 120.000 e 22.000.
- (B) 83.000 e 38.000.
- (C) 110.000 e 38.000.
- (D) 83.000 e 22.000.
- (E) 110.000 e 22.000.

QUESTÃO 23

São denominadas entes de cooperação com o Estado as entidades:

- (A) empresariais.
- (B) autárquicas.
- (C) estatais.
- (D) paraestatais.
- (E) fundacionais.

QUESTÃO 24

Segundo Piscitelli (2014), o Princípio da Universalidade estabelece que

- (A) no orçamento é necessário a identificação de cada rubrica de receita e despesa, de modo que não figurem de forma englobada.
- (B) o orçamento deve ser elaborado e autorizado para execução em um período de tempo.
- (C) deverão ser incluídos no orçamento, exclusivamente, assuntos que lhe sejam pertinentes.
- (D) o orçamento deve ser expresso de forma clara, ordenada e completa.
- (E) o orçamento deve compreender todas as receitas e todas as despesas.

QUESTÃO 25

A principal demonstração contábil que reflete a posição financeira em determinado momento, normalmente no fim do ano ou de um período pré-fixado, denomina-se:

- (A) Demonstração do Resultado do Exercício.
- (B) Balanço Patrimonial.
- (C) Demonstração do Valor Adicionado.
- (D) Balanço Social.
- (E) Demonstração das Mutações do Patrimônio Líquido.

QUESTÃO 26

Em relação ao Plano de Contas Aplicado ao setor público, a parte relativa ao Ativo, Passivo e Patrimônio Líquido é composta por

- (A) ativo circulante, ativo não circulante, passivo circulante, passivo não circulante e patrimônio líquido.
- (B) ativo circulante, ativo permanente, ativo não circulante, passivo circulante, passivo não circulante e patrimônio líquido.
- (C) ativo circulante, ativo permanente, diferido, passivo exigível e patrimônio líquido.
- (D) ativo circulante, ativo permanente, diferido, passivo circulante, passivo não circulante e patrimônio líquido.
- (E) ativo circulante, ativo não circulante, passivo exigível, passivo não realizável a longo prazo e patrimônio líquido.

QUESTÃO 27

O estágio da Receita pelo qual a repartição competente verifica a procedência do crédito fiscal, a pessoa que lhe é devedora e inscreve o débito desta denomina-se

- (A) Recolhimento.
- (B) Lançamento.
- (C) Previsão.
- (D) Arrecadação.
- (E) Fixação.

QUESTÃO 28

Analise a tabela a seguir.

Dia	Compras			Utilização
	Quantidade (Kg)	Preço Unitário (R\$)	Total (R\$)	Quantidade (kg)
7	1000	10,00	10.000	-
9	2000	12,00	24.000	-
15	-	-	-	2150
20	1200	13,00	15.600	-
27	-	-	-	1000

Com base nas informações apresentadas na tabela acima, avaliando o material pelo critério PEPS (FIFO), calcule o custo da matéria-prima utilizada nos dias 15 e 27, respectivamente, e assinale a opção correta.

- (A) R\$ 25.900 e R\$ 15.800
- (B) R\$ 24.500 e R\$ 14.500
- (C) R\$ 23.800 e R\$ 12.150
- (D) R\$ 22.300 e R\$ 11.800
- (E) R\$ 21.900 e R\$ 10.200

QUESTÃO 29

Assinale a opção que completa corretamente as lacunas da sentença abaixo.

Segundo Martins (2010), a compra de matéria-prima é _____, que se torna _____ durante o tempo de estocagem, sendo apenas considerado _____ no momento da fabricação de um produto.

- (A) despesa / investimento / custo
- (B) gasto / despesa / investimento
- (C) desembolso / custo / investimento
- (D) gasto / investimento / custo
- (E) desembolso / despesa / custo

QUESTÃO 30

Segundo Meirelles (2016), assinale a opção que NÃO constitui caso de licitação dispensável.

- (A) Greve ou grave perturbação da ordem.
- (B) Intervenção no domínio econômico.
- (C) Desinteresse pela licitação anterior.
- (D) Contratações com a empresa pública AMAZUL.
- (E) Serviços técnicos profissionais especializados.

QUESTÃO 31

O patrimônio de uma entidade é composto por elementos positivos e negativos. Assinale a opção que apresente seu aspecto positivo.

- (A) Dívidas.
- (B) Passivo Exigível.
- (C) Direitos e Obrigações.
- (D) Bens e Direitos.
- (E) Obrigações.

QUESTÃO 32

Assinale a opção que completa corretamente as lacunas das sentenças abaixo.

As Perdas _____ são inerentes ao próprio processo de produção. Se entramos com 10.000 kg de material, mas são aproveitados apenas 9.300 kg em condições normais, para os produtos será apropriado o valor do total dos 10.000 kg. Por sua vez, as Perdas _____ não sofrem o mesmo tratamento; por serem aleatórias e involuntárias, são tratadas como perdas do período, indo diretamente para resultado. Caso aqueles _____ kg fossem perdidos em um incêndio, por exemplo, não seriam incluídos no custo de produção.

- (A) Normais/ Anormais / 700
- (B) Anormais/ Normais/ 10.000
- (C) Normais/ Anormais/ 9.300
- (D) Anormais/ Normais/ 700
- (E) Normais/ Anormais / 700

QUESTÃO 33

Assinale a opção que apresenta uma receita corrente.

- (A) Alienação de bens.
- (B) Operações de crédito.
- (C) Receitas imobiliárias.
- (D) Amortização de empréstimo.
- (E) Transferência de capital.

QUESTÃO 34

Com relação às medidas de dispersão assinale a opção correta.

- (A) As medidas de dispersão intervalo, desvio médio, variância e desvio padrão têm na média o ponto de referência.
- (B) A maior vantagem do intervalo é o fato de só levar em conta os dois valores extremos de um conjunto, nada informando quanto aos outros valores.
- (C) O desvio médio absoluto de um conjunto de números é a média dos desvios dos valores a contar da média, ignorando-se o sinal de diferença.
- (D) A variância de uma amostra é a média dos quadrados dos desvios dos valores a contar da média, calculada usando-se $n+1$, em lugar de n .
- (E) O desvio padrão de um conjunto de números é a raiz quadrada positiva da variância, tendo algumas aplicações no controle de inventários.

QUESTÃO 35

Segundo Hely Lopes Meirelles (2016), em relação aos Serviços Públicos e suas formas e meios de prestação, assinale a opção correta.

- (A) Serviço Público é todo aquele prestado pela Administração ou por seus delegados, sob normas e controles privados, para satisfazer necessidades essenciais ou secundárias da coletividade.
- (B) Serviço descentralizado é todo aquele em que o Poder Público transfere sua titularidade ou, simplesmente, sua execução, por outorga ou delegação, a autarquias, fundações, empresas estatais, empresas privadas ou particulares individualmente e aos consórcios públicos.
- (C) Serviço desconcentrado é todo aquele em que a Administração executa centralizadamente, sem distribuí-lo a outros órgãos.
- (D) Execução direta do serviço é aquela em que o responsável pela sua prestação comete a terceiros para realizá-lo nas condições regulamentares.
- (E) Serviço centralizado é o que o Poder Público presta por por meio de seus próprios órgãos e em seu nome sem, contudo, possuir responsabilidade sobre o serviço.

QUESTÃO 36

Analise a tabela abaixo, cujos valores são unitários:

	Custo Direto Variável	Custo Indireto Variável	Custo Indireto Fixo	Custo Total	Preço de Venda	Lucro
Produto L	R\$ 700	R\$ 80	R\$ 317	R\$ 1.097	R\$ 1.550	R\$ 453
Produto M	R\$ 1.000	R\$ 100	R\$ 396	R\$ 1.496	R\$ 2.000	R\$ 504
Produto N	R\$ 750	R\$ 90	R\$ 317	R\$ 1.157	R\$ 1.700	R\$ 543

Os custos fixos da tabela acima foram alocados à base de horas de MOD e, por esse critério, o produto mais lucrativo é o N. Sendo assim, assinale a opção que apresenta o produto que mais contribui por unidade para a empresa e o valor da margem de contribuição por unidade, respectivamente.

- (A) L e R\$ 1.000/un
 (B) M e R\$ 900/un
 (C) L e R\$ 860/un
 (D) N e R\$ 800/un
 (E) M e R\$ 730/un

QUESTÃO 37

A Cia Alfa adquiriu material de escritório a prazo, no mês de março, o qual será consumido no mês de maio e cujo pagamento se dará no mês de outubro. Considerando os regimes de caixa e de competência, quando se dará o reconhecimento da despesa, respectivamente:

- (A) outubro e março.
 (B) outubro e maio.
 (C) maio e outubro.
 (D) maio e março.
 (E) março e maio.

QUESTÃO 38

Analise a distribuição de frequência abaixo.

Classe	Intervalo de classe	fi
1	2 ————— 4	6
2	4 ————— 6	18
3	6 ————— 8	8
4	8 ————— 10	6
5	9 ————— 12	2

Calcule as frequências acumuladas para as classes e assinale a opção correta.

- (A) 6 elementos da série são menores que 4.
 (B) 24 elementos da série são menores que 8.
 (C) 32 elementos da série são menores que 6.
 (D) 38 elementos da série são maiores que 10.
 (E) 40 elementos da série são maiores que 12.

QUESTÃO 39

Em determinado período, um produto apresenta os seguintes custos de produção:

- I- Matéria - prima e embalagens que podem ser apropriadas, perfeita e diretamente, ao produto: R\$ 2.500.000,00;
- II- Material de consumo que não há como ser associado com exatidão ao produto: R\$ 400.000,00;
- III- Mão de obra do pessoal da produção: R\$ 1.000.000,00;
- IV- Salários da supervisão da fábrica: R\$ 300.000,00;
- V- Depreciação de máquinas, linearmente em valores iguais por período, e não por produto, R\$ 200.000,00;
- VI- Energia elétrica: R\$ 150.000,00 alocados diretamente por medidor próprio e R\$ 100.000,00 alocados indiretamente ao produto; e
- VII- Aluguel do prédio, R\$ 80.000,00.

Com base nos custos de produção acima, assinale a opção que apresenta os valores totais dos custos diretos e indiretos, respectivamente.

- (A) R\$ 2.500.000,00 e R\$ 2.230.000,00
- (B) R\$ 2.650.000,00 e R\$ 2.080.000,00
- (C) R\$ 3.650.000,00 e R\$ 1.080.000,00
- (D) R\$ 3.950.000,00 e R\$ 780.000,00
- (E) R\$ 4.050.000,00 e R\$ 680.000,00

QUESTÃO 40

Como se denomina a entidade da Administração Indireta que é dotada de personalidade de direito privado sob a forma de sociedade anônima, cujas ações com direito a voto pertençam, em sua maioria, à União?

- (A) Autarquia.
- (B) Empresa Pública.
- (C) Fundação Pública.
- (D) Presidência da República.
- (E) Sociedade de Economia Mista.

QUESTÃO 41

Assinale a opção que apresenta a modalidade de empenho em que o montante a ser pago é previamente conhecido e deve ocorrer de uma só vez.

- (A) De reforço.
- (B) Integral.
- (C) Global.
- (D) Ordinário.
- (E) Estimativo.

QUESTÃO 42

Considere a distribuição de frequência abaixo.

xi	fi
3	2
5	4
8	5
9	1
11	3

Qual a frequência relativa do terceiro elemento distinto da série acima?

- (A) 7%
- (B) 13%
- (C) 20%
- (D) 27%
- (E) 33%

QUESTÃO 43

Com relação à Lei de Diretrizes Orçamentárias, um instrumento de planejamento governamental, assinale a opção correta.

- (A) É o instrumento utilizado para a consequente materialização do conjunto de ações e objetos que foram planejados visando ao melhor atendimento e bem estar da coletividade
- (B) Procura ordenar as ações do governo que levem ao atendimento dos objetivos e metas fixados para um período de 4 anos.
- (C) Compreenderá o orçamento fiscal, de investimentos e seguridade social.
- (D) Compreenderá as metas e prioridades da Administração Pública, incluindo as despesas de capital para o exercício subsequente.
- (E) Nenhum investimento cuja execução ultrapasse um exercício financeiro poderá ser iniciado sem prévia inclusão nesse instrumento ou sem lei que autorize a inclusão.

QUESTÃO 44

Segundo Meirelles (2016), assinale a opção abaixo que apresenta um serviço de utilidade pública.

- (A) Energia Elétrica.
- (B) Preservação da Saúde Pública.
- (C) Polícia.
- (D) Educação.
- (E) Defesa Nacional.

QUESTÃO 45

Analise as afirmativas abaixo.

Segundo Kohama (2016), no Balanço Patrimonial do setor público:

- I- O ativo circulante demonstra os valores realizáveis a longo prazo.
- II- O patrimônio líquido demonstra os valores residuais do ativo, depois de deduzidos todos os passivos.
- III- As contas do passivo e patrimônio líquido são organizadas para registrar os atos e fatos relativos aos direitos e obrigações assumidos pela entidade.
- IV- As contas do ativo são organizadas para registrar atos e fatos relativos aos direitos, bens, créditos e valores a receber a curto e longo prazo e aos investimentos, imobilizado e intangível.

Assinale a opção correta.

- (A) Apenas as afirmativas I e II são verdadeiras.
- (B) Apenas as afirmativas I e IV são verdadeiras.
- (C) Apenas as afirmativas II e III são verdadeiras.
- (D) Apenas as afirmativas II e IV são verdadeiras.
- (E) Apenas as afirmativas II, III e IV são verdadeiras.

QUESTÃO 46

Coloque F(falso) V(verdadeiro) nas afirmativas abaixo, em relação às medidas de tendência central, assinalando a seguir a opção correta.

- () A média tem como limitação ser influenciada por valores extremos.
- () A moda por definição é o valor mais frequente.
- () A mediana possui propriedades matemáticas atraentes, sendo isso uma vantagem.
- () A média reflete cada valor.
- () A moda se presta à análise matemática.

- (A) (F) (V) (V) (F) (F)
- (B) (V) (F) (F) (V) (F)
- (C) (V) (V) (F) (F) (V)
- (D) (F) (F) (V) (V) (F)
- (E) (V) (V) (F) (V) (F)

QUESTÃO 47

Um ente da Administração Pública pretende efetuar a aquisição de um equipamento orçado em R\$ 670.000,00. Nos termos da lei nº 8.666/1993, que modalidade de licitação deve ser utilizada?

- (A) Pregão.
- (B) Convite.
- (C) Tomada de Preços.
- (D) Concorrência.
- (E) Leilão.

QUESTÃO 48

No Balanço Patrimonial, os subgrupos que compõem o ativo não circulante são:

- (A) realizável a longo prazo, investimentos, imobilizado e intangível.
- (B) realizável a longo prazo, permanente e diferido.
- (C) resultado de exercícios futuros, investimentos, imobilizado e diferido.
- (D) realizável a longo prazo, investimentos, diferido e intangível.
- (E) disponibilidades, imobilizado, permanente, intangível e diferido.

QUESTÃO 49

Em relação ao regime de adiantamento na Administração Pública, qual é o prazo para prestar contas no órgão após esgotar o prazo para aplicação?

- (A) 30 dias.
- (B) 45 dias.
- (C) 60 dias.
- (D) 90 dias.
- (E) 120 dias.

QUESTÃO 50

Analise a distribuição de frequência abaixo.

Classe	Intervalo de classe	fi
1	2 ————— 5	2
2	5 ————— 8	10
3	8 ————— 11	8
4	11 ————— 14	2

Calcule a média aritmética dessa distribuição e assinale a opção correta.

- (A) 7,91
- (B) 7,89
- (C) 7,88
- (D) 7,86
- (E) 7,85


RASCUNHO PARA REDAÇÃO

TÍTULO:

1	
2	
3	
4	
5	
6	
7	
8	
9	
10	
11	
12	
13	
14	
15	
16	
17	
18	
19	
20	
21	
22	
23	
24	
25	
26	
27	
28	
29	
30	

INSTRUÇÕES GERAIS AO CANDIDATO

- 1 - Verifique se a prova recebida e a folha de respostas são da mesma cor (consta no rodapé de cada folha a cor correspondente) e se não faltam questões ou páginas. Escreva e assine corretamente o seu nome, coloque o seu número de inscrição e o dígito verificador (DV) apenas nos locais indicados;
- 2 - O tempo para a realização da prova será de 4 (quatro) horas, incluindo o tempo necessário à redação e à marcação das respostas na folha de respostas, e não será prorrogado;
- 3 - Só inicie a prova após ser autorizado pelo Fiscal, interrompendo a sua execução quando determinado;
- 4 - A redação deverá ser uma dissertação com idéias coerentes, claras e objetivas escritas na língua portuguesa e escrita em letra cursiva. Deverá ter no mínimo 20 linhas contínuas, considerando o recuo dos parágrafos, e no máximo 30 linhas;
- 5 - Iniciada a prova, não haverá mais esclarecimentos. O candidato somente poderá deixar o seu lugar, devidamente autorizado pelo Supervisor/Fiscal, para se retirar definitivamente do recinto de prova ou, nos casos abaixo especificados, devidamente acompanhado por militar designado para esse fim:
 - atendimento médico por pessoal designado pela MB;
 - fazer uso de banheiro; e
 - casos de força maior, comprovados pela supervisão do certame, sem que aconteça saída da área circunscrita para a realização da prova.
 Em nenhum dos casos haverá prorrogação do tempo destinado à realização da prova, em caso de retirada definitiva do recinto de prova, esta será corrigida até onde foi solucionada;
- 6 - Use caneta esferográfica preta ou azul para preencher a folha de respostas;
- 7 - Confira nas folhas de questões as respostas que você assinalou como corretas antes de marcá-las na folha de respostas. Cuidado para não marcar duas opções para uma mesma questão na folha de respostas (a questão será perdida);
- 8 - Para rascunho, use os espaços disponíveis nas folhas de questões, mas só serão corrigidas as respostas marcadas na folha de respostas;
- 9 - O tempo mínimo de permanência dos candidatos no recinto de aplicação de provas é de 120 minutos.
- 10 - Será eliminado sumariamente do processo seletivo/concurso e as suas provas não serão levadas em consideração, o candidato que:
 - a) der ou receber auxílio para a execução da Prova escrita objetiva de conhecimentos profissionais e da Redação;
 - b) utilizar-se de qualquer material não autorizado;
 - c) desprezar qualquer prescrição relativa à execução da Prova e da Redação;
 - d) escrever o nome ou introduzir marcas identificadoras noutro lugar que não o determinado para esse fim;
 - e) cometer ato grave de indisciplina; e
 - f) comparecer ao local de realização da Prova escrita objetiva de conhecimentos profissionais e da Redação após o horário previsto para o fechamento dos portões.
- 11 - Instruções para o preenchimento da folha de respostas:
 - a) use caneta esferográfica azul ou preta;
 - b) escreva seu nome em letra de forma no local indicado;
 - c) assine o seu nome no local indicado;
 - d) no campo inscrição DV, escreva o seu número de inscrição nos retângulos, da esquerda para a direita, um dígito em cada retângulo. Escreva o dígito correspondente ao DV no último retângulo. Após, cubra todo o círculo correspondente a cada número. Não amasse dobre ou rasgue a folha de respostas sob pena de ser rejeitada pelo equipamento de leitura ótica que corrigirá as mesmas; e
 - e) só será permitida a troca de folha de respostas até o início da prova, por motivo de erro no preenchimento nos campos nome, assinatura e número de inscrição, sendo de inteira responsabilidade do candidato qualquer erro ou rasura na referida folha de respostas, após o início da prova.
- 12 - Procure preencher a folha com atenção de acordo com o exemplo abaixo:








Nome: ROBERTO SILVA

Assinatura: Roberto Silva

Instruções de Preenchimento

- Não rasure esta folha.
- Não rabisque nas áreas de respostas.
- Faça marcas sólidas nos círculos.
- Não use canetas que borrem o papel.

ERRADO:     CORRETO: 

PREENCHIMENTO DO CANDIDATO

INSCRIÇÃO					DV	P G			
5	7	0	2	0	7	0	2	4	
0	1	2	3	4	5	6	7	8	9
0	1	2	3	4	5	6	7	8	9
0	1	2	3	4	5	6	7	8	9
0	1	2	3	4	5	6	7	8	9
0	1	2	3	4	5	6	7	8	9
0	1	2	3	4	5	6	7	8	9
0	1	2	3	4	5	6	7	8	9
0	1	2	3	4	5	6	7	8	9
0	1	2	3	4	5	6	7	8	9

01	02	03	04	05	06	07	08	09	10	11	12	13	14	15	16	17	18	19	20	21	22	23	24	25	26	27	28	29	30	31	32	33	34	35	36	37	38	39	40	41	42	43	44	45	46	47	48	49	50
----	----	----	----	----	----	----	----	----	----	----	----	----	----	----	----	----	----	----	----	----	----	----	----	----	----	----	----	----	----	----	----	----	----	----	----	----	----	----	----	----	----	----	----	----	----	----	----	----	----

T
A
R
J
A

13 - Não será permitido levar a prova após sua realização. O candidato está autorizado a transcrever as suas respostas, dentro do horário destinado à solução da prova, utilizando o modelo impresso no fim destas instruções para posterior conferência com o gabarito que será divulgado em Boletim de Ordens e Notícias (BONO) da Marinha do Brasil, disponível nas Organizações Responsáveis pela Divulgação e Inscrição (ORDI) e na página da DEEnsM na Internet. É proibida a utilização de qualquer outro tipo de papel para anotação do gabarito.

ANOTE SEU GABARITO										PROVA DE COR _____																																							
1	2	3	4	5	6	7	8	9	10	11	12	13	14	15	16	17	18	19	20	21	22	23	24	25	26	27	28	29	30	31	32	33	34	35	36	37	38	39	40	41	42	43	44	45	46	47	48	49	50